
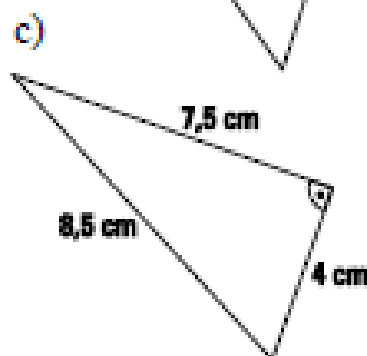
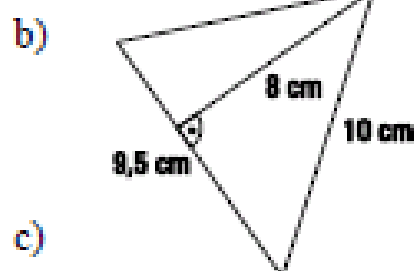
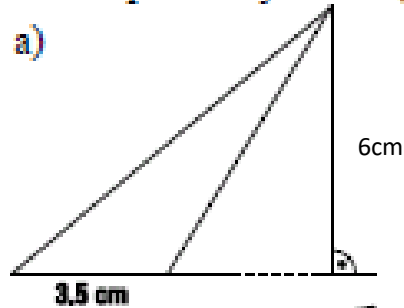


Pole trójkąta

Zadanie 1

Oblicz pole narysowanego trójkąta.



Zadanie 2

Oblicz pole i obwód trójkąta prostokątnego o bokach 17 cm, 15 cm i 8 cm.

$P =$ _____

Obw. = _____

Zadanie 3

Pole trójkąta jest równe 48 cm^2 . Jeden z boków tego trójkąta ma długość 12 cm. Oblicz wysokość opuszczoną na ten bok.

